






УСЛОВНЫЕ ОБОЗНАЧЕНИЯ


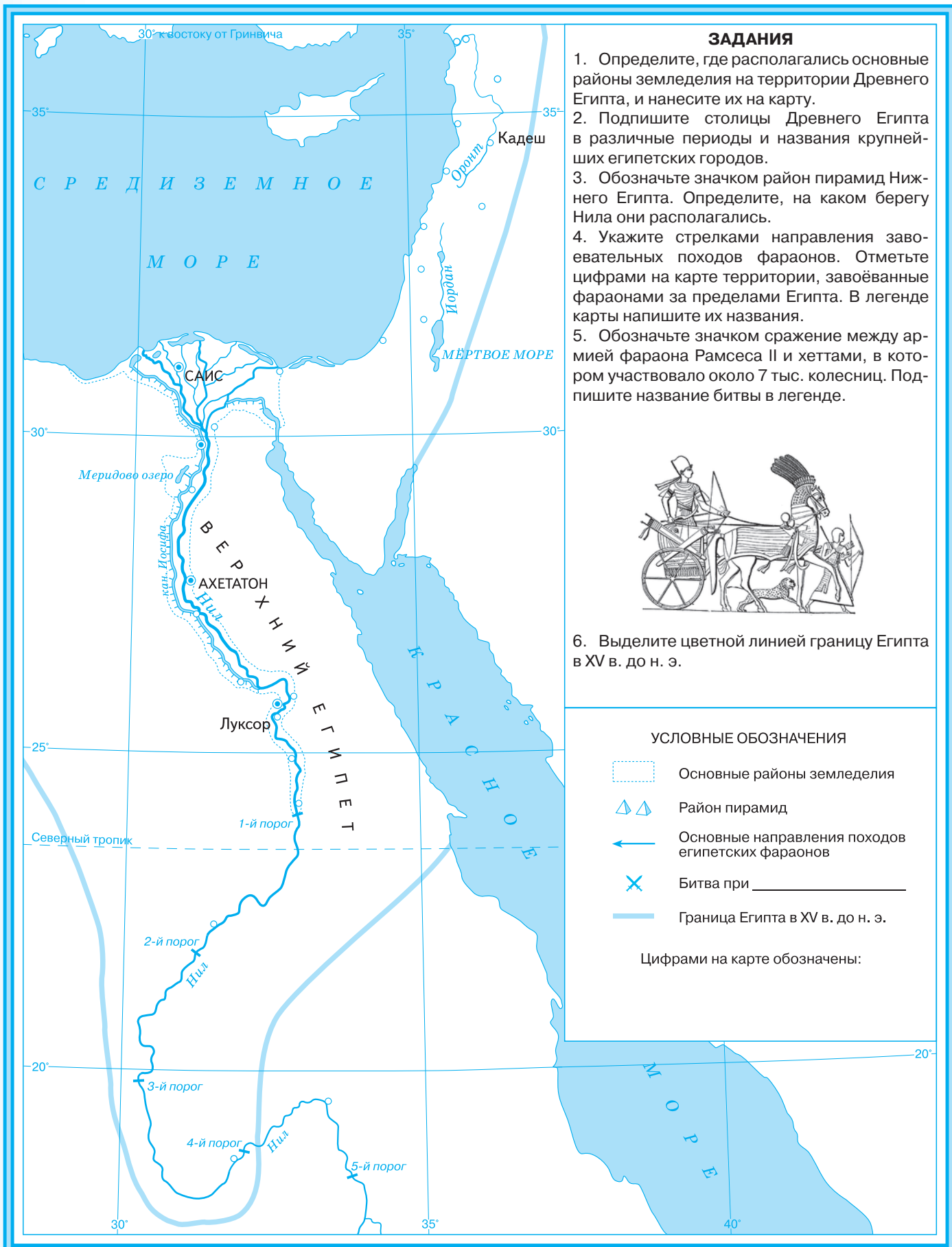
-  Предполагаемая прародина человека умелого
-  Предполагаемые пути расселения первобытных людей
-  Стоянки первобытных людей
-  Древнейшие районы земледелия и скотоводства (10—8 тыс. лет назад)
-  Граница последнего оледенения Земли

Древнейшие цивилизации

- ① \_\_\_\_\_
- ② \_\_\_\_\_
- ③ \_\_\_\_\_
- ④ \_\_\_\_\_
- ⑤ \_\_\_\_\_

ЗАДАНИЯ

1. Выделите территорию предполагаемой прародины человека и обозначьте на карте стрелками пути расселения первобытных людей в Азию, Европу и Америку.
2. Обозначьте цветом древнейшие районы земледелия и скотоводства. Изучите карту атласа и назовите причины выбора этих районов.
3. Подпишите в легенде названия древнейших цивилизаций, обозначенные цифрами на карте.



6. Выделите цветной линией границу Египта в XV в. до н. э.