

УДК 373.167.1:91
ББК 26.8я72
Б24

Барина, И. И.
Б24 География : География России : Природа. 8 кл. : рабочая тетрадь к учебнику И. И. Бариновой «География. География России. Природа. 8 класс» / И. И. Барина. — 6-е изд., стереотип. — М. : Дрофа, 2020. — 127, [1] с. : ил., карт. — (Российский учебник).

ISBN 978-5-358-23573-1

Пособие является частью УМК по географии, основа которого — учебник И. И. Бариновой «География. География России. Природа. 8 класс».

Рабочая тетрадь содержит задания, направленные на работу с учебником и атласом, и способствует достижению предметных и метапредметных результатов изучения курса.

В тетрадь включены специальные блоки заданий, направленные на подготовку учащихся к сдаче экзаменов в формате ОГЭ и ЕГЭ.

УДК 373.167.1:91
ББК 26.8я72

РОССИЙСКИЙ УЧЕБНИК

Учебное издание

Барина Ирина Ивановна

**ГЕОГРАФИЯ. География России. Природа
8 класс**

Рабочая тетрадь к учебнику И. И. Бариновой
«География. География России. Природа. 8 класс»

Ответственный редактор *С. В. Курчина*

Художественное оформление *Э. К. Реоли*. Технический редактор *С. А. Толмачева*

Компьютерная верстка *Т. В. Рыбина*. Корректор *С. М. Задворычева*

Карты изготовлены ООО «Издательство ДИК»

Подписано к печати 19.08.19. Формат 70 × 90 ¹/₁₆. Гарнитура «Школьная».

Печать офсетная. Усл. печ. л. 8,0. Тираж 4000 экз. Заказ № .

ООО «ДРОФА», 123112, г. Москва, Пресненская набережная,
дом 6, строение 2, помещение № 1, этаж 14.



росучебник.рф/метод

Предложения и замечания по содержанию и оформлению книги

можно отправлять по электронному адресу: expert@rosuchebnik.ru

По вопросам приобретения продукции издательства обращайтесь:

тел.: 8-800-700-64-83; e-mail: sales@rosuchebnik.ru

Электронные формы учебников, другие электронные материалы и сервисы:
lecta.rosuchebnik.ru, тел.: 8-800-555-46-68

В помощь учителю и ученику: регулярно пополняемая библиотека дополнительных материалов к урокам, конкурсы и акции с поощрением победителей, рабочие программы, вебинары и видеозаписи открытых уроков rosuchebnik.ru/метод

12+

ISBN 978-5-358-23573-1

© ООО «ДРОФА», 2014

© ООО «ДРОФА», 2018, с изменениями

Наша Родина на карте мира

Географическое положение России

Площадь — 17 125 191 км².

Протяжённость государственной границы — 60 932 км.

Соотношение морских и сухопутных границ — 2 : 1.

Средняя высота над уровнем моря — 360 м.

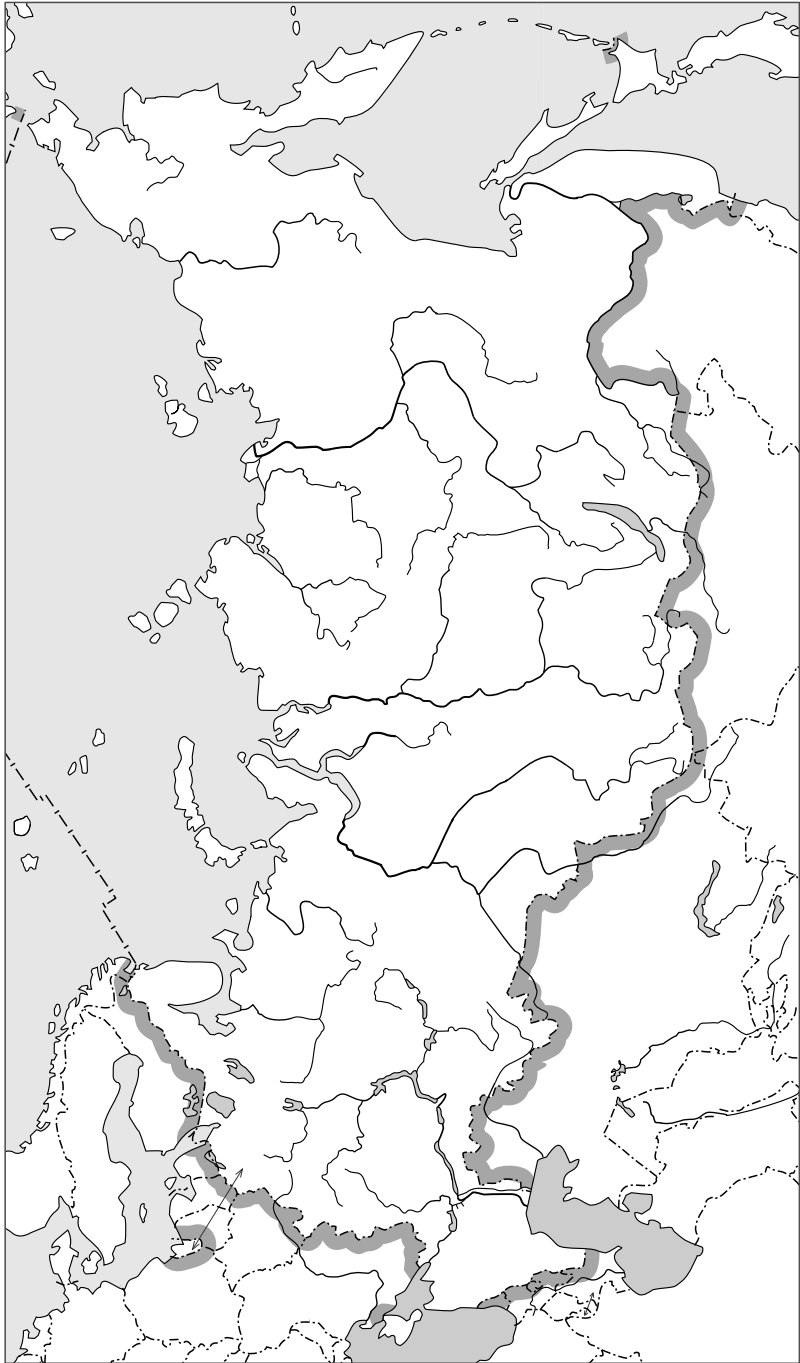
За Полярным кругом лежит 20% территории России.

- 1.** Определите в километрах и градусной мере протяжённость России: с севера на юг (по меридиану 100° в. д.)

с запада на восток (по параллели 60° с. ш.)

- 2.** Определите по картам атласа, какие государства Северного полушария имеют сходное с Россией географическое положение (ГП); укажите названия этих государств и их столиц.

- 3.** Подпишите на контурной карте (с. 4) названия государств, граничащих с Россией. Отметьте местоположение столицы России, определите и подпишите её географические координаты.



4. Нанесите на контурную карту (с. 4) крайние точки России.
5. Определите по карте, какие европейские столицы расположены:

севернее Москвы

южнее Москвы

_____	_____
_____	_____
_____	_____
_____	_____
_____	_____
_____	_____
_____	_____
_____	_____

6. Определите, в каком направлении и на каком расстоянии от Москвы находятся:

Екатеринбург _____

Киев _____

Санкт-Петербург _____

Архангельск _____

Вильнюс _____

Ростов-на-Дону _____

Хабаровск _____

Минск _____

Таллин _____

7. Определите максимальную высоту Кольского полуострова.

8. Какие особенности природы, жизни населения и хозяйства связаны с ГП страны?

Природа	ГП	Население
Климатические условия		Национальная одежда, обычаи
<hr/>		
<hr/>		
<hr/>		
<hr/>		
<hr/>		
<hr/>		
<hr/>		
<hr/>		
<hr/>		
<hr/>		
<hr/>		
<hr/>		
<hr/>		
Хозяйство		
Развитие определённых отраслей промышленности		
<hr/>		
<hr/>		
<hr/>		
<hr/>		
<hr/>		
<hr/>		

9. Проанализируйте тематические карты.

Название тематической карты и страница атласа, на которой она помещена	Что изображено на карте	Способ изображения	При решении каких задач используется
Тектоническая			

10. Укажите главные особенности ГП России.

1. _____

2. _____

3. _____

Сделайте вывод о влиянии географического положения на природу, быт и хозяйственную деятельность населения.

Моря, омывающие берега России

Наибольшая глубина Мирового океана у берегов России — 9783 м в Курило-Камчатском глубоководном жёлобе.

Самое большое море, омывающее берега России, — Берингово.

Самое маленькое море — Азовское.

Самое пресное море — Балтийское: в 4—5 раз преснее Мирового океана.

Самый высокий прилив — более 12 м в Пенжинской губе Охотского моря.

1. Укажите, от чего зависит солёность морской воды.

2. По картам атласа определите, к бассейнам каких океанов принадлежат моря, омывающие берега России.

Океаны	Моря
1.	<hr/> <hr/> <hr/> <hr/> <hr/>
2.	<hr/> <hr/> <hr/> <hr/> <hr/>
3.	<hr/> <hr/> <hr/> <hr/> <hr/>
4.	<hr/> <hr/> <hr/> <hr/> <hr/>

3. Назовите типичные черты природы морей России, принадлежащих бассейнам различных океанов (на примере морей Северного Ледовитого океана показано, как это следует сделать).

Моря Северного Ледовитого океана	Окраинные (шельфовые) Мелководные Слабосолёные Замерзающие на долгую зиму
Моря Тихого океана	<hr/> <hr/> <hr/> <hr/> <hr/> <hr/>
Моря Атлантического океана	<hr/> <hr/> <hr/> <hr/> <hr/> <hr/>
Моря бессточного бассейна	<hr/> <hr/> <hr/> <hr/> <hr/> <hr/>

- 4.** Напишите, какие моря у берегов России получили свои названия от имён их исследователей (1), а какие — по особенностям географического положения (2).

1

2

_____	_____
_____	_____
_____	_____
_____	_____
_____	_____
_____	_____
_____	_____
_____	_____
_____	_____
_____	_____
_____	_____
_____	_____
_____	_____
_____	_____
_____	_____
_____	_____
_____	_____
_____	_____
_____	_____
_____	_____
_____	_____

Россия на карте часовых поясов

Причина различия во времени на территории России — большая протяжённость страны с запада на восток.

- 1.** На сколько надо перевести часовую стрелку при перелёте из 2-й часовой зоны в 6-ю; в 1-ю; в 9-ю?

- 2.** Сколько раз в нашей стране можно встречать наступление Нового года?

3. Определите, сколько времени будет в Якутске, если в Москве 14 часов.

4. На сколько и куда надо перевести часовую стрелку при перелёте из Калининграда в Алма-Ату?

5. Местное время населённого пункта отличается от московского на 4 часа. В какой часовой зоне находится этот населённый пункт?

6. Определите, сколько времени будет в Москве, если в Петропавловске-Камчатском полдень.

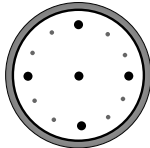
7. На рисунке покажите, чему в каждом из случаев равно московское время.

Нью-Йорк

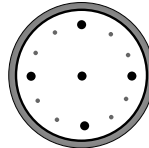


6 ч 00 мин

Москва



Москва



Берлин



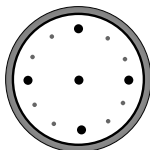
12 ч 00 мин

Лондон

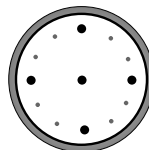


11 ч 50 мин

Москва



Москва



Токио



20 ч 00 мин

Подготовка к ОГЭ и ЕГЭ

1. Выберите один правильный ответ и отметьте его. С какой из перечисленных стран Россия имеет сухопутную границу?
1) Норвегия
2) Швеция
3) Германия
4) Дания
2. Выберите один правильный ответ и отметьте его. С какой из перечисленных стран Россия не имеет сухопутной границы?
1) Украина
2) Белоруссия
3) Польша
4) Молдавия
3. Выберите один правильный ответ и отметьте его. С какой из перечисленных стран Россия имеет сухопутную границу?
1) Япония
2) США
3) КНДР
4) Индия
4. Выберите один правильный ответ и отметьте его. С какой из перечисленных стран Россия не имеет сухопутной границы?
1) Южная Осетия
2) Абхазия
3) Грузия
4) Армения
5. Выберите один правильный ответ и отметьте его. С какой из перечисленных стран Россия имеет сухопутную границу?
1) Узбекистан
2) Казахстан
3) Туркменистан
4) Кыргызстан
6. Выберите один правильный ответ и отметьте его. С какой из перечисленных стран Россия не имеет сухопутной границы?
1) Китай
2) Монголия
3) Афганистан
4) Казахстан
7. Выберите один правильный ответ и отметьте его. На каком из архипелагов расположена крайняя островная северная точка России?
1) Новая Земля
2) Земля Франца-Иосифа
3) Северная Земля
4) Новосибирские острова

8. Выберите один правильный ответ и отметьте его. На каком из архипелагов расположена крайняя островная восточная точка России?

- | | |
|---------------------|--------------------|
| 1) остров Врангеля | 3) остров Рудольфа |
| 2) остров Ратманова | 4) остров Ушакова |

9. Выберите один правильный ответ и отметьте его. Крайняя материковая северная точка России имеет примерные координаты

- 1) 77° с. ш. 2) 47° с. ш. 3) 57° с. ш. 4) 87° с. ш.

10. Выберите один правильный ответ и отметьте его. Крайняя материковая восточная точка России имеет примерные координаты

- | | |
|----------------------|----------------------|
| 1) 180° в. д. | 3) 170° в. д. |
| 2) 169° з. д. | 4) 169° в. д. |

11. Выберите один правильный ответ и отметьте его. Крайняя южная точка России расположена на границе с

- | | |
|----------------|------------------|
| 1) Грузией | 3) Азербайджаном |
| 2) Казахстаном | 4) Китаем |

12. Выберите один правильный ответ и отметьте его. Крайняя южная точка России имеет примерные координаты

- | | |
|---------------------|---------------------|
| 1) 41° с. ш. | 3) 41° ю. ш. |
| 2) 51° с. ш. | 4) 51° ю. ш. |

13. Выберите один правильный ответ и отметьте его. Крайняя западная точка России имеет примерные координаты

- 1) 19° в. д. 2) 21° в. д. 3) 19° з. д. 4) 21° з. д.

14. Установите соответствие между морем и океаном, к которому оно относится.

МОРЕ

- А) Карское
Б) Балтийское
В) Берингово

ОКЕАН

- 1) Атлантический
2) Тихий
3) Северный Ледовитый