

УДК 373.167.1:91
ББК 26.89(2Рос)я72
Т17


Таможняя Е.А.
Т17 География : 9 класс : рабочая тетрадь № 1 к учебному пособию Е.А. Таможней, С.Г. Толкуновой «География России. Хозяйство. Регионы» для учащихся общеобразовательных организаций / Е.А. Таможняя, С.Г. Толкунова. — 2-е изд., испр. — М. : Вентана-Граф, 2019. — 80 с. : ил. — (Российский учебник).

ISBN 978-5-360-11095-8

Рабочая тетрадь содержит задания разного уровня сложности, направленные на работу с учебным пособием, атласом и другими источниками географической информации, что способствует закреплению основных географических понятий, усвоению фактов, причинно-следственных связей и закономерностей, рассматриваемых в курсе «География России. Хозяйство. Регионы». Рабочая тетрадь позволяет учителю организовать практическую и творческую деятельность учащихся.

Соответствует Федеральному государственному образовательному стандарту основного общего образования (2010 г.).

УДК 373.167.1:91
ББК 26.89(2Рос)я72

Значком  обозначены задания краеведческого характера.

РОССИЙСКИЙ УЧЕБНИК

Учебное издание

Таможняя Елена Александровна, Толкунова Светлана Геннадьевна

География

9 класс

Рабочая тетрадь № 1 к учебному пособию Е.А. Таможней, С.Г. Толкуновой «География России. Хозяйство. Регионы» для учащихся общеобразовательных организаций

Редакторы *Т.Л. Степанова, В.В. Дмитричева*. Внешнее оформление *К.В. Бычкова*
Художники *Н.Л. Аршинов, П.А. Жиличкин, Е.Е. Исакова*
Фотографии: *В.А. Андрианов, О.В. Гueva, В.Б. Пятунин, В.В. Садырин, Е.В. Соколова*,
ООО «ТРИ КВАДРАТА», www.gazprom.ru
Художественный редактор *М.В. Новоторцев*. Компьютерная вёрстка *И.В. Шатровой*
Технический редактор *Е.А. Урвачёва*. Корректоры *Ю.С. Борисенко, Н.А. Шарт*

Подписано в печать 13.03.19. Формат 84 × 108 / 16. Гарнитура TextBook
Печать офсетная. Печ. л. 5,0. Тираж 2000 экз. Заказ №

ООО Издательский центр «Вентана-Граф». 123308, г. Москва, ул. Зорге, д. 1, эт. 5



rosuchebnik.rf/метод

Предложения и замечания по содержанию и оформлению книги можно отправлять по электронному адресу: expert@rosuchebnik.ru
По вопросам приобретения продукции издательства обращайтесь:
тел.: 8-800-700-64-83; e-mail: sales@rosuchebnik.ru

Электронные формы учебников, другие электронные материалы и сервисы:
lecta.rosuchebnik.ru, тел.: 8-800-555-46-68

В помощь учителю и ученику: регулярно пополняемая библиотека дополнительных материалов к урокам, конкурсы и акции с поощрением победителей, рабочие программы, вебинары и видеозаписи открытых уроков rosuchebnik.rf/метод

ISBN 978-5-360-11095-8

© Таможняя Е.А., Толкунова С.Г., 2016
© Издательский центр «Вентана-Граф», 2016
© Таможняя Е.А., Толкунова С.Г., 2019, с изменениями
© Издательский центр «Вентана-Граф», 2019, с изменениями

Раздел V Хозяйство России

Общая характеристика хозяйства России

Урок 1. Отраслевая структура хозяйства (§ 1)

1. Заполните таблицу.

Структура курса «География России»	
Изучаемые разделы	
8 класс	9 класс
Раздел I. Географическое положение и формирование государственной территории России	Раздел V
Раздел II. Природа России	Раздел VI
Раздел III. Население России	Раздел VII
Раздел IV. Природный фактор в развитии России	

2. Дополните предложения.

1) _____ — это совокупность природных и созданных людьми богатств, которые используются для обеспечения жизни населения страны, улучшения условий его существования.

2) Главной задачей хозяйства является максимальное удовлетворение _____ в продуктах питания, товарах и различных услугах.

3) _____ хозяйства — это совокупность предприятий, производящих близкую по назначению продукцию или оказывающих однотипные услуги.

4) Множество отраслей хозяйства можно сгруппировать в четыре _____. Группировка отраслей хозяйства по секторам отражает _____ формирования хозяйства стран мира.

5) _____ структура _____ — это совокупность всех отраслей хозяйства страны, соотношение и связи между отраслями.

6) Выделяют три основных этапа развития хозяйства: доиндустриальный, _____ и _____. Своеобразными рубежами, которые отделяют их друг от друга, являются промышленная революция и _____.

7) Смена технологических укладов хозяйства (циклы Кондратьева) характеризует индустриальный и _____ этапы развития экономики.

8) _____ комплекс — это система предприятий различных отраслей, объединённых выпуском определённой продукции (или производством определённых услуг).

3. Используя текст и иллюстрации учебника, заполните таблицу.

Предприятие	Отрасль	К какому сектору экономики относится	В состав какого межотраслевого комплекса входит
Молочный завод	Пищевая	Вторичный	АПК
Парикмахерская	Жилищно-коммунальное хозяйство и бытовое обслуживание		Инфраструктурный
	Добыча полезных ископаемых		ТЭК
Металлургический комбинат			Комплекс конструкционных материалов и химических веществ
	Образование	Третичный	



Школа географа-исследователя

🏠 Используя опросный метод, соберите и проанализируйте сведения о предприятиях своей местности.

Название предприятия/ учреждения, в котором работают родственники или знакомые	В состав какой отрасли входит	К какому сектору экономики относится	В состав какого межотраслевого комплекса входит

Урок 2. Территориальная структура хозяйства (§ 2)

1. Дополните предложения.

1) По форме собственности различают предприятия государственные, _____ и смешанного типа.

2) По величине предприятий различают _____, _____ и мелкие предприятия.

3) Рельеф, климатические условия, природные ресурсы, население определяются особенностями данной территории и называются _____ размещения.

4) Техничко-экономические особенности различных производств (потребность в определённых видах ресурсов, длительность технологического процесса, число участников и т. д.) определяют _____ размещения предприятий. Для предприятий разных отраслей хозяйства роль этих факторов неодинакова.

5) В современных условиях всё большее влияние на размещение предприятий приобретают факторы _____ экономики: соотношение спроса и предложения, наличие капитала, конкурентоспособность предприятия и т. д.

2. Установите соответствие между термином и его определением.

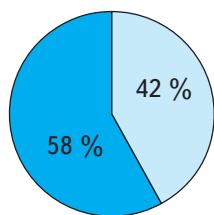
Определение	Термин
1. Выпуск какого-либо продукта только одним предприятием. 2. Сосредоточение производства на крупных предприятиях. 3. Территориальное расчленение единого технологического процесса на отдельные стадии, которые осуществляются разными предприятиями. 4. Установление производственных связей между предприятиями, совместно участвующими в изготовлении определённой продукции. 5. Затраты на производство единицы продукции. 6. Специализация различных территорий на производстве определённых товаров и услуг.	А. Концентрация Б. Территориальное разделение труда В. Монополизация Г. Себестоимость Д. Специализация Е. Кооперирование

Ответ

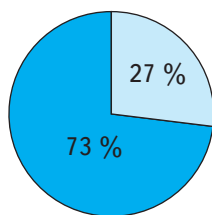
1	2	3	4	5	6

3. Проанализируйте диаграммы на с. 6, которые отражают роль малых и средних предприятий (МСП) и крупных предприятий (КП) в хозяйстве России.

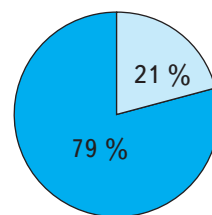
Предприятия разного типа



Общее количество предприятий



Занятость экономически активного населения

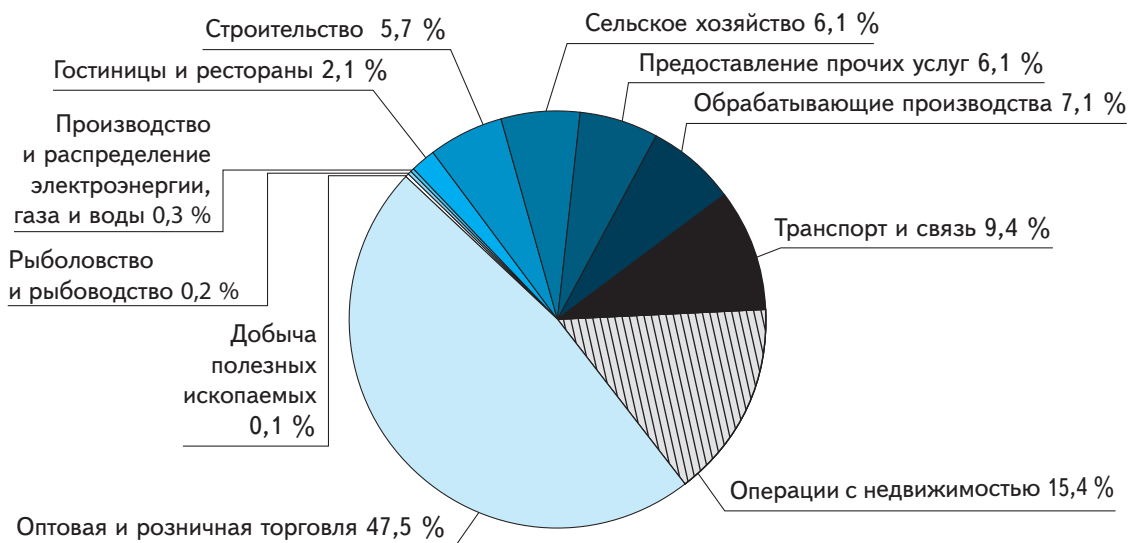


Вклад в ВВП страны

■ КП

□ МСП

Распределение малых и средних предприятий (МСП) по отраслям хозяйства



Сформулируйте выводы

1) Роль малых и средних предприятий в хозяйстве России _____

2) Их доля в занятости экономически активного населения и в ВВП страны не превышает _____ %.

3) Наибольшее число малых и средних предприятий сосредоточено в отраслях: _____

4) Наименьшее число малых и средних предприятий сосредоточено в отраслях: _____

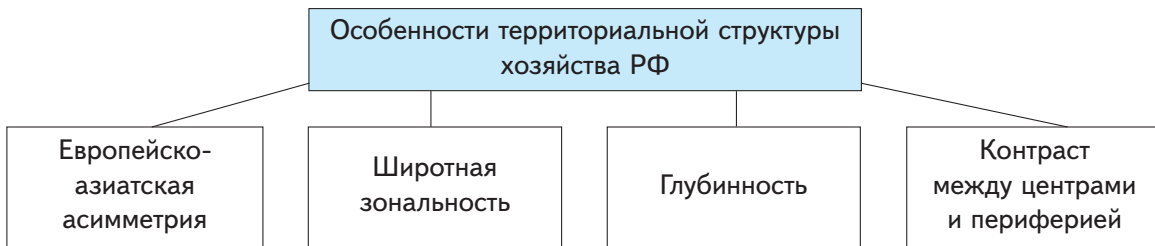
_____ . В этих отраслях ведущую роль играют

крупные предприятия.

4. Определите, какие особенности территориальной структуры хозяйства России рассматриваются в данном фрагменте текста. Подчеркните эти особенности на схеме.

Основная хозяйственная деятельность россиян осуществляется на *экономически эффективной территории*, т. е. в районах, благоприятных для жизни и работы людей. Именно здесь располагается *основная зона расселения*, на долю которой приходится производство около 80 % промышленной и более 90 % сельскохозяйственной продукции...

...Азиатская часть занимает $\frac{3}{4}$ территории страны. Эта огромная по площади территория значительно удалена от экономически развитых регионов европейской части страны, относительно слабо заселена (численность проживающего населения — около 20 % населения России) и освоена в хозяйственном отношении (менее 30 % промышленного потенциала). Большую часть Азиатского макрорегиона занимает *Зона Севера*. Строительство промышленных объектов, жилых зданий, транспортных путей, добыча полезных ископаемых в Зоне Севера ведутся в условиях многолетней мерзлоты, сильного заболачивания или сложного пересечённого рельефа. Такие экстремальные природные условия в 3–5 раз повышают необходимые затраты на развитие хозяйства по сравнению с центральными и южными районами европейской части России.



Школа географа-исследователя

● Сравните количество предприятий разных форм собственности в экономике страны. Составьте прогноз — как может измениться их соотношение? Свой прогноз кратко обоснуйте.

Характеристика предприятий	1996 г.	2009 г.	2012 г.	Прогноз
Число предприятий и организаций всего, тыс.	2 250	4 772	4 886	
В том числе по формам собственности, %:				
государственная	14,3	2,8	2,3	
муниципальная	8,8	5,4	4,7	
частная	63,4	83,3	85,9	
собственность общественных организаций (объединений)	4,2	4,1	3,0	
прочие формы собственности	9,3	4,4	4,1	

Урок 3. Особенности формирования хозяйства России (§ 3)

1. Дополните предложения.

1) 1-й цикл индустриального этапа развития хозяйства России сопровождался развитием _____ промышленности, центрами которой стали Иваново, Орехово-Зуево и другие города Центральной России.

2) В ходе 2-го технологического цикла в России сформировались _____ районы: Центральный, _____, _____ и Южный, а также потребляющая и _____ сельскохозяйственные зоны.

3) В ходе 3-го технологического цикла (1930–1970-е гг.) в СССР развивались отрасли _____, а доля населения, занятого в сельском хозяйстве, в этот период _____.

4) В ходе 4-го цикла (1960–1970-е гг.) в СССР развивались отрасли: _____, _____, _____, _____.

5) Первые достижения научно-технической революции нашли применение преимущественно в _____ промышленности СССР и слабо затронули основные отрасли гражданской экономики.

2. Установите соответствие.

Номер технологического уклада развития хозяйства	Ключевой фактор, определяющий развитие остальных отраслей хозяйства	Исторические этапы развития хозяйства России
1. Первый 2. Второй 3. Третий 4. Четвёртый 5. Пятый	А. Электродвигатель Б. Паровой двигатель В. Ткацкий и прядильный станки Г. Микроэлектроника Д. Двигатель внутреннего сгорания	I. С 1970-х гг. по наст. вр. II. 1930–1970 гг. III. Вторая половина XX в. — наст. вр. IV. 1890–1940 гг. V. 1840–1890 гг.


Ответ

1	2	3	4	5



Школа географа-исследователя

Используя опросный метод, установите, к каким формам собственности относятся предприятия, на которых работают ваши родственники, знакомые, соседи. Составьте по этим данным диаграмму.



Условные знаки

География отраслей и межотраслевых комплексов

Топливо-энергетический комплекс

Урок 4. Состав и значение топливно-энергетического комплекса (§ 4)

1. Дополните предложения.

1) Совокупность отраслей, связанных с добычей, переработкой и транспортировкой топлива, выработкой электроэнергии, называется _____
_____ комплексом.

2) Перевозкой грузов ТЭК занимается трубопроводный, _____,
морской транспорт, электроэнергия передаётся по _____.