

 | российский
учебник

С.С. Минаева, Л.О. Рослова, И.В. Савельева

Математика

4 класс

Рабочая тетрадь № 1

3-е издание, стереотипное



Москва
Издательский центр
«Вентана-Граф»
2020



УДК 373.167.1:51
ББК 22.1я71
М34

Минаева, С.С.

М34 Математика : 4 класс : рабочая тетрадь № 1 / С.С. Минаева, Л.О. Рослова, И.В. Савельева. — 3-е изд., стереотип. — М. : Вентана-Граф, 2020. — 64 с. + вкл. : ил. — (Российский учебник).

ISBN 978-5-360-11372-0

Тетрадь содержит различные виды упражнений на усвоение нового и повторение ранее изученного материала, отработку навыков устного счёта, задания для самостоятельной работы и задания развивающего характера.

Тетрадь используется в первом полугодии 4 класса в комплекте с учебником «Математика. 4 класс» (авторы С.С. Минаева, Л.О. Рослова, О.А. Рыздзев).

Соответствует Федеральному государственному образовательному стандарту начального общего образования (2009 г.).

УДК 373.167.1:51
ББК 22.1я71

Условные обозначения



Подсказка или образец выполнения задания



Выполняй задание карандашом



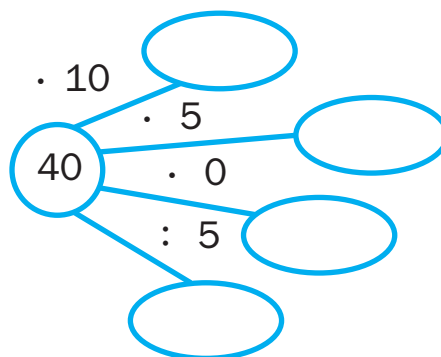
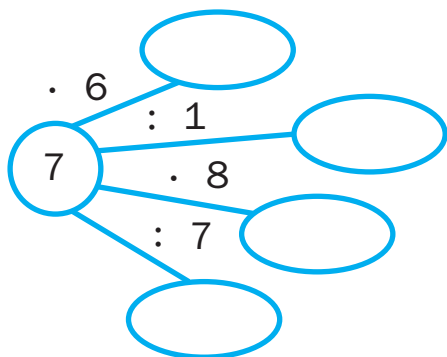
Вырежи из *Приложения* и наклей



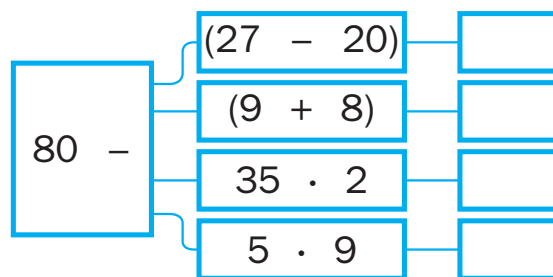
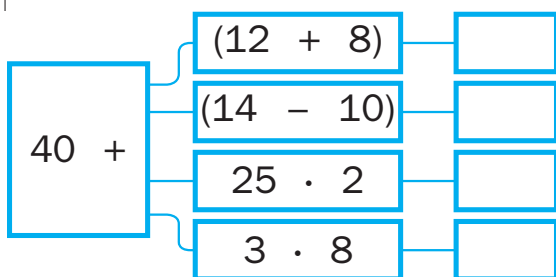
Используй циркуль

Устный счёт

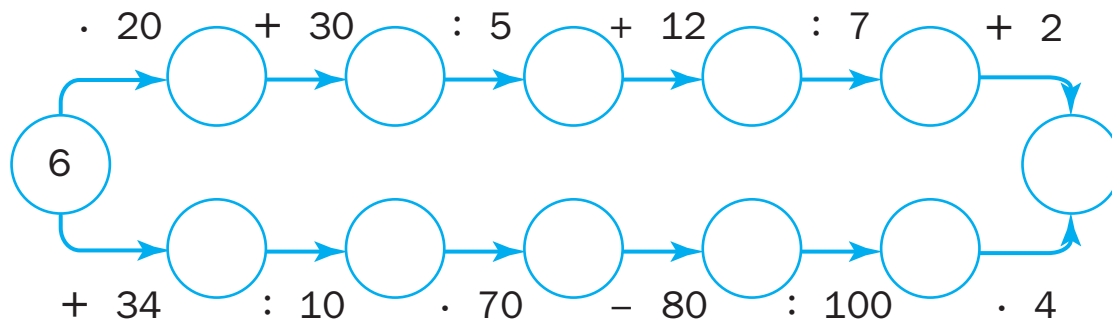
1. Выполни действия.



2. Запиши результаты вычислений.



3. Выполни цепочку действий, записывая результат каждого действия.



5. Цепочка чисел составлена по определённому правилу. Запиши пропущенные числа.


10, 5, 13, 5, 16, 5, , 5, , , 25

6. Нарисуй квадрат, площадь которого вычисляется так:

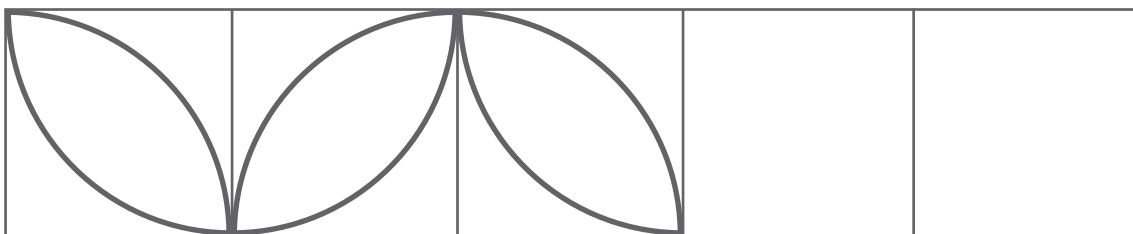
$$6 \cdot 6 = 36 \text{ (см}^2\text{)}.$$



7. Скопируй рисунок.



8. Продолжи узор. Раскрась.



Числа, большие 1 000

1. Для каждого числа найди его словесное описание. Раскрась пару соответственных кругов одним цветом.

- 25 030 3 250 325
- 5 030 2 503 253
- 2 тысячи 5 сотен 3 единицы
- 3 сотни 2 десятка 5 единиц
- 2 десятка тысяч 5 тысяч 3 десятка
- 2 сотни 5 десятков 3 единицы
- 3 тысячи 2 сотни 5 десятков
- 5 тысяч 3 десятка

2. Дано число 413052. Соотнеси цифры в записи числа (левый столбец) и разряды (правый столбец).

- | | | | |
|---|---|---|-----------------------|
| 0 | ● | ● | разряд тысяч |
| 1 | ● | ● | разряд сотен тысяч |
| 2 | ● | ● | разряд десятков тысяч |
| 3 | ● | ● | разряд единиц |
| 4 | ● | ● | разряд десятков |
| 5 | ● | ● | разряд сотен |

3. Заполни пропуски такими числами, чтобы выполнялось равенство.

$$\boxed{} = 4 \cdot 100 + 6 \cdot 10 + 5 \cdot 1$$

$$38\,205 = 3 \cdot \boxed{} + 8 \cdot \boxed{} + 2 \cdot \boxed{} + 0 \cdot \boxed{} + \boxed{} \cdot 1$$

$$7\,290 = \boxed{} \cdot 1\,000 + \boxed{} \cdot 100 + \boxed{} \cdot \boxed{} + \boxed{} \cdot \boxed{}$$

$$\boxed{} = 2 \cdot 1\,000 + 5 \cdot \boxed{} + 3 \cdot 10 + 7 \cdot 1$$