

С.С. Минаева, Л.О. Рослова, О.А. Рыдзе

Математика

1 класс

Рабочая тетрадь № 3

*5-е издание,
стереотипное*



Москва
Издательский центр
«Вентана-Граф»
2020

УДК 373.167.1:51
ББК 22.1я71
М34

Минаева С.С.

М34 Математика : 1 класс : рабочая тетрадь № 3 / С.С. Минаева, Л.О. Рослова, О.А. Рыдзе. — 5-е изд., стереотип. — М. : Вентана-Граф, 2020. — 64 с. : ил. — (Российский учебник).

ISBN 978-5-360-11521-2

Тетрадь содержит различные виды упражнений на усвоение нового и повторение ранее изученного материала, задания развивающего характера, дополнительные задания, которые позволяют проводить дифференцированное обучение.

Тетрадь используется во втором полугодии 1 класса в комплекте с учебником «Математика. 1 класс» (авт. С.С. Минаева, Л.О. Рослова, О.А. Рыдзе и др.).

Соответствует Федеральному государственному образовательному стандарту начального общего образования (2009 г.).

УДК 373.167.1:51
ББК 22.1я71

ISBN 978-5-360-11521-2

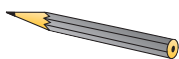
© Минаева С.С., Рослова Л.О., Рыдзе О.А., 2009
© Издательский центр «Вентана-Граф», 2009
© Минаева С.С., Рослова Л.О., Рыдзе О.А., 2011, с изменениями
© Издательский центр «Вентана-Граф», 2011, с изменениями

Дорогой первоклассник!


В этой тетради собрано много интересных заданий.
Для их выполнения тебе понадобятся:



ручка



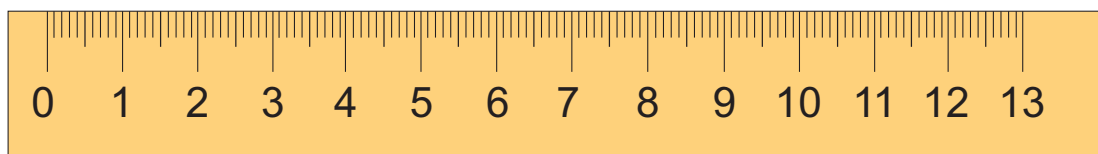
простой
карандаш



цветные
карандаши



ластик



линейка

Желаем тебе успехов!

На сколько?

1. Сколько лампочек в гирлянде?



лампочек.

Нарисуй гирлянду, в которой:

● на 3 лампочки больше;




лампочек.

● на 2 лампочки меньше.



лампочек.

2.





● На сколько меньше красных мячей, чем жёлтых?

Раскрась! ○ ○ ○ ○ ○ ○ ○ ○

● На сколько больше зелёных машинок, чем синих?

Раскрась! ○ ○ ○ ○ ○ ○ ○ ○

● Чего больше: жёлтых мячей или синих машинок?

Выбери и раскрась:   .

На сколько?

Раскрась! ○ ○ ○ ○ ○ ○ ○ ○

Задача

1. По рисунку ответь на вопросы.

● Сколько шаров у мальчика?

шаров.

● На сколько меньше шаров у мальчика, чем у девочки?

На шар.

● На сколько больше зелёных шаров, чем красных?

На шаров.



2. Реши задачи.

● На рисунке семь зонтов. Два из них красные. Остальные жёлтые. Сколько жёлтых зонтов?



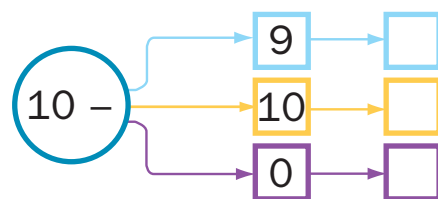
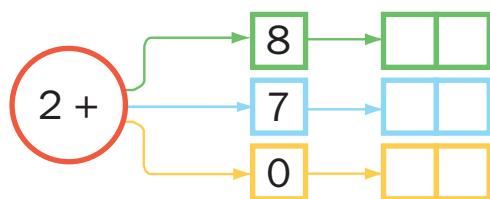
Ответ: жёлтых зонтов.

● Раскрыты два зонта из семи. На сколько больше закрытых зонтов, чем раскрытых?



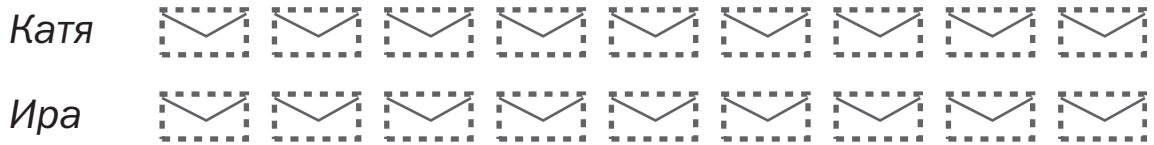
Ответ: закрытых зонтов на больше.

3. Впиши результат действия.



Условие и вопрос задачи

1. У Кати 2 конверта, а у Иры 7 конвертов.
Обведи столько конвертов, сколько их у Кати и
сколько их у Иры.






Сколько всего конвертов у девочек? к.

На сколько меньше конвертов у Кати? На к.

На сколько больше конвертов у Иры? На к.

2. К какому рисунку можно поставить вопрос: «На сколько больше гусят, чем цыплят?» Раскрась гусят и цыплят на этом рисунке.



Ответ: гусят на больше, чем цыплят.

3. Подчеркни вычитаемое. Найди разность.

● $19 - 5 =$

● $18 - 2 =$

$19 - 6 =$

$18 - 3 =$